

Übungsaufgaben Zählen mit Bildern (Schneemann). Aufgaben nur in den Zahlenbereich von 1 bis 9.


Zähle die Schneemänner und schreibe die richtige Zahl in das Kästchen!

Name:

Klasse:

Datum:

Aufgabe 1.



Aufgabe 2.



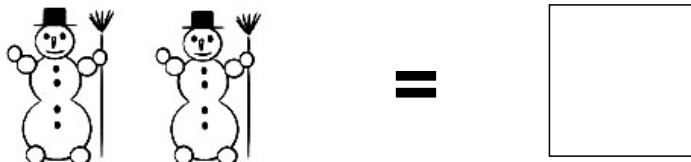
Aufgabe 3.



Aufgabe 4.



Aufgabe 5.




Lösungen:

Aufgabe 1:



6

Aufgabe 2:




4

Aufgabe 3:




7

Aufgabe 4:



5

Aufgabe 5:



2