

**Übungsaufgaben Zählen mit Bildern (Schneemann). Aufgaben nur in den Zahlenbereich von 1 bis 9.**

**Zähle die Schneemänner und schreibe die richtige Zahl in das Kästchen!**

Name:


Klasse:

Datum:


Aufgabe 1.



Aufgabe 2.



Aufgabe 3.



Aufgabe 4.




Aufgabe 5.




Lösungen:

Aufgabe 1:



9

Aufgabe 2:



5

Aufgabe 3:




6

Aufgabe 4:



3

Aufgabe 5:



4