

**Übungsaufgaben Zählen mit Bildern (Schneemann). Aufgaben nur in den Zahlenbereich von 1 bis 9.**


**Zähle die Schneemänner und schreibe die richtige Zahl in das Kästchen!**

Name:

Klasse:

Datum:

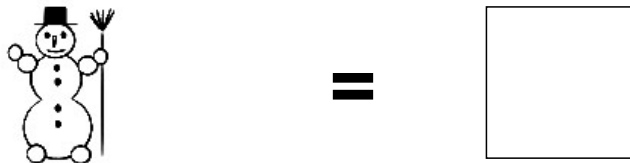
Aufgabe 1.




Aufgabe 2.



Aufgabe 3.



Aufgabe 4.




Aufgabe 5.




Lösungen:

Aufgabe 1:



5

Aufgabe 2:



4

Aufgabe 3:




1

Aufgabe 4:



6

Aufgabe 5:



9