

Name:

Klasse:

Datum:


Aufgabe 1.



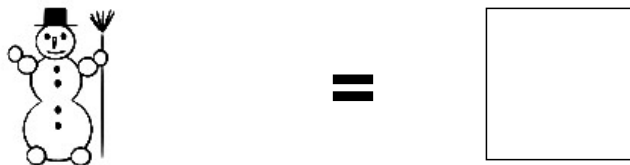
Aufgabe 2.



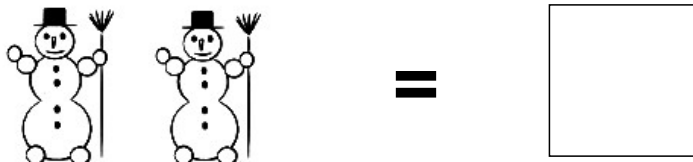
Aufgabe 3.



Aufgabe 4.




Aufgabe 5.



Lösungen:

Aufgabe 1:



9

Aufgabe 2:



3

Aufgabe 3:




7

Aufgabe 4:



1

Aufgabe 5:



2