

**Übungsaufgaben Zählen mit Bildern (Schneemann). Aufgaben nur in den Zahlenbereich von 1 bis 9.**


**Zähle die Schneemänner und schreibe die richtige Zahl in das Kästchen!**

Name:

Klasse:

Datum:

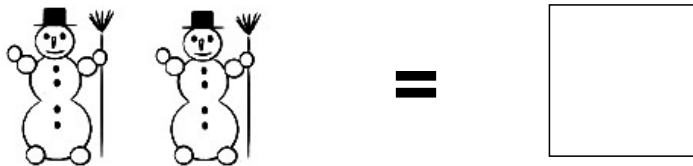
Aufgabe 1.



Aufgabe 2.



Aufgabe 3.



Aufgabe 4.



Aufgabe 5.




Lösungen:

Aufgabe 1:




6

Aufgabe 2:




7

Aufgabe 3:




2

Aufgabe 4:



8

Aufgabe 5:



9