

Übungsaufgaben Zählen mit Bildern (Schneemann). Aufgaben nur in den Zahlenbereich von 1 bis 9.


Zähle die Schneemänner und schreibe die richtige Zahl in das Kästchen!

Name:

Klasse:

Datum:

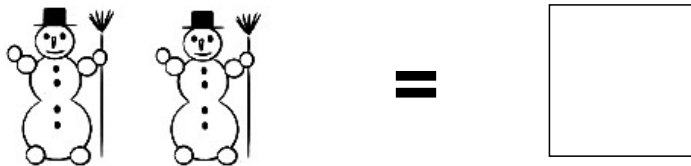
Aufgabe 1.



Aufgabe 2.



Aufgabe 3.



Aufgabe 4.



Aufgabe 5.



Lösungen:

Aufgabe 1:




6

Aufgabe 2:




7

Aufgabe 3:




2

Aufgabe 4:



4

Aufgabe 5:



9