

Name:	Klasse:	Datum:
-------	---------	--------

Aufgabe 1.




=

Aufgabe 2.




=

Aufgabe 3.



=

Aufgabe 4.




=

Aufgabe 5.



=

Aufgabe 6.



=


Lösungen

Aufgabe 1: 


1

Aufgabe 2: 

5

Aufgabe 3: 


7

Aufgabe 4: 

10

Aufgabe 5: 

3

Aufgabe 6: 

9