



Name:	Klasse:	Datum:
-------	---------	--------

Aufgabe 1.




=

Aufgabe 2.




=

Aufgabe 3.



=

Aufgabe 4.



=

Aufgabe 5.



=


Aufgabe 6.



=


Lösungen

Aufgabe 1:




10

Aufgabe 2:




6

Aufgabe 3:



9

Aufgabe 4:



7

Aufgabe 5:



4

Aufgabe 6:



3