




|       |         |        |
|-------|---------|--------|
| Name: | Klasse: | Datum: |
|-------|---------|--------|

Aufgabe 1.  =

Aufgabe 2.  =

Aufgabe 3.  =

Aufgabe 4.  =

Aufgabe 5.  =

Aufgabe 6.  =

Übungsaufgaben Rechnen mit Bildern.


Lösungen



5



3



6



2



4



1