



Name:	Klasse:	Datum:
-------	---------	--------

Aufgabe 1.



=

Aufgabe 2.




=

Aufgabe 3.




=

Aufgabe 4.



=

Aufgabe 5.



=


Aufgabe 6.



=


Lösungen

Aufgabe 1:



8

Aufgabe 2:




9

Aufgabe 3:




5

Aufgabe 4:



10

Aufgabe 5:



7

Aufgabe 6:



1