

Übungsaufgaben Rechnen mit Bildern.

Name:	Klasse:	Datum:
-------	---------	--------

Aufgabe 1.



Aufgabe 2.



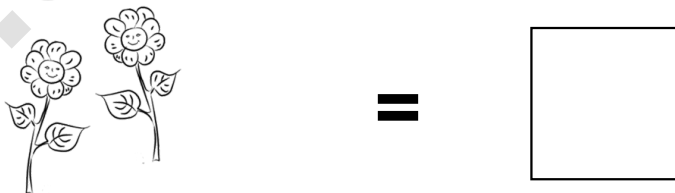
Aufgabe 3.




Aufgabe 4.



Aufgabe 5.



Aufgabe 6.



Übungsaufgaben Rechnen mit Bildern.


Lösungen

Aufgabe 1:



8

Aufgabe 2:



3

Aufgabe 3:



4

Aufgabe 4:



1

Aufgabe 5:



2

Aufgabe 6:



9