

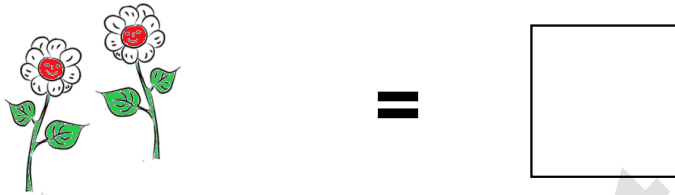
Übungsaufgaben Rechnen mit Bildern.

Name:	Klasse:	Datum:
-------	---------	--------

Aufgabe 1.



Aufgabe 2.



Aufgabe 3.




Aufgabe 4.



Aufgabe 5.




Aufgabe 6.



Übungsaufgaben Rechnen mit Bildern.


Lösungen

Aufgabe 1:




8

Aufgabe 2:



2

Aufgabe 3:



4

Aufgabe 4:



7

Aufgabe 5:



5

Aufgabe 6:



6