

Name:	Klasse:	Datum:
-------	---------	--------

Aufgabe 1.




=

Aufgabe 2.




=

Aufgabe 3.



=

Aufgabe 4.




=

Aufgabe 5.



=

Aufgabe 6.



=

Lösungen

Aufgabe 1:




1

Aufgabe 2:




2

Aufgabe 3:



6

Aufgabe 4:




8

Aufgabe 5:



3

Aufgabe 6:



7