


Name:	Klasse:	Datum:
-------	---------	--------

Aufgabe 1.



=




Aufgabe 2.




=



Aufgabe 3.



=




Aufgabe 4.




=




Aufgabe 5.



=



Aufgabe 6.



=



Übungsaufgaben Rechnen mit Bildern.

Lösungen

Aufgabe 1:



6

Aufgabe 2:



3

Aufgabe 3:



10

Aufgabe 4:



2

Aufgabe 5:



7

Aufgabe 6:



8