


Name:	Klasse:	Datum:
-------	---------	--------

Aufgabe 1.



=



Aufgabe 2.




=




Aufgabe 3.



=



Aufgabe 4.




=




Aufgabe 5.



=



Aufgabe 6.



=



Lösungen

Aufgabe 1:



10

Aufgabe 2:



4

Aufgabe 3:



2

Aufgabe 4:



9

Aufgabe 5:



3

Aufgabe 6:



8