


Name:	Klasse:	Datum:
-------	---------	--------

Aufgabe 1.




=

Aufgabe 2.




=

Aufgabe 3.




=

Aufgabe 4.



=

Aufgabe 5.



=

Aufgabe 6.



=

Übungsaufgaben Rechnen mit Bildern.

Lösungen

Aufgabe 1:




8

Aufgabe 2:



5

Aufgabe 3:



7

Aufgabe 4:



10

Aufgabe 5:



9

Aufgabe 6:



2