


Name:	Klasse:	Datum:
-------	---------	--------

Aufgabe 1.



=

Aufgabe 2.




=

Aufgabe 3.



=

Aufgabe 4.




=

Aufgabe 5.



=

Aufgabe 6.




=

Übungsaufgaben Rechnen mit Bildern.

Lösungen

Aufgabe 1:



10

Aufgabe 2:



5

Aufgabe 3:



3

Aufgabe 4:




6

Aufgabe 5:



2

Aufgabe 6:



8