

Name:	Klasse:	Datum:
-------	---------	--------

Aufgabe 1.



=

Aufgabe 2.




=

Aufgabe 3.




=

Aufgabe 4.




=

Aufgabe 5.



=

Aufgabe 6.



=

Lösungen

Aufgabe 1:



2

Aufgabe 2:




5

Aufgabe 3:



1

Aufgabe 4:




10

Aufgabe 5:



7

Aufgabe 6:



8