


Übungsaufgaben Rechnen mit Bildern.

Name:	Klasse:	Datum:
-------	---------	--------

Aufgabe 1.



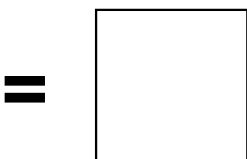
+



Aufgabe 2.




+



Übungsaufgaben Rechnen mit Bildern.


Lösungen

Aufgabe 1:



11

Aufgabe 2:



9

www.das-bastelteam.de