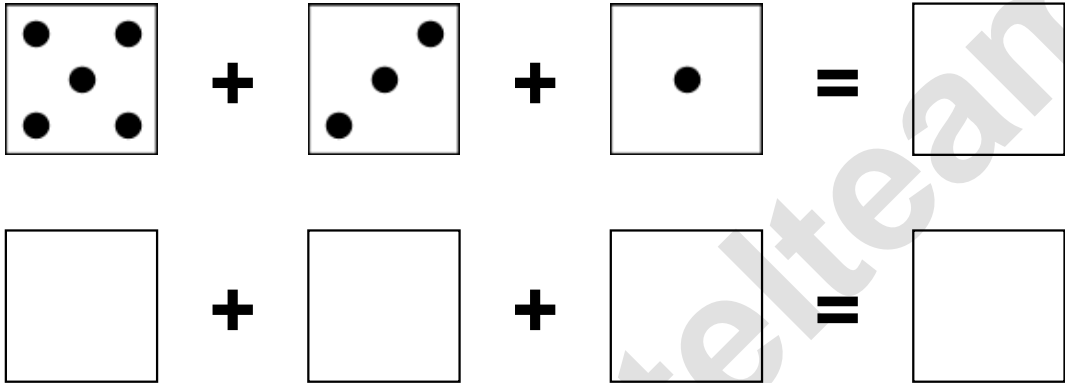


Aufgaben rechnen mit Bildern. Der Würfel.
Ergebnisse im Zahlenbereich bis 16.

Name:	Klasse:	Datum:
-------	---------	--------

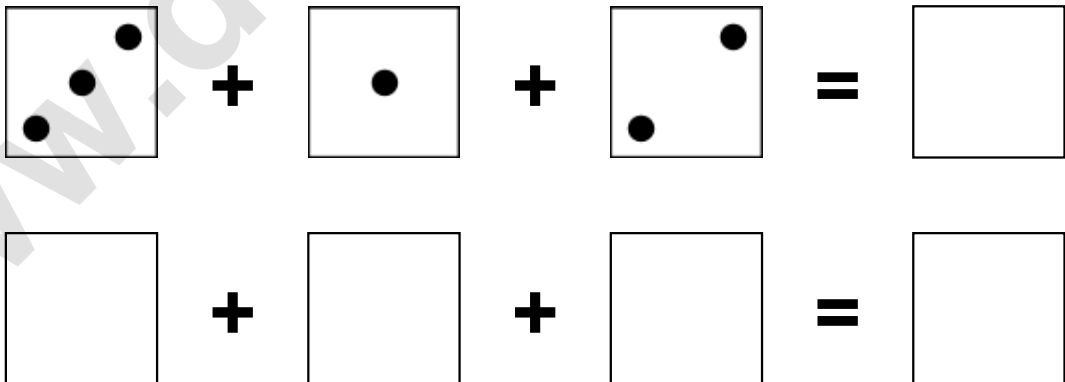
Aufgabe 1.)

Zähle die Punkte auf den Würfeln und addiere.



Aufgabe 2.)


Zähle die Punkte auf den Würfeln und addiere.



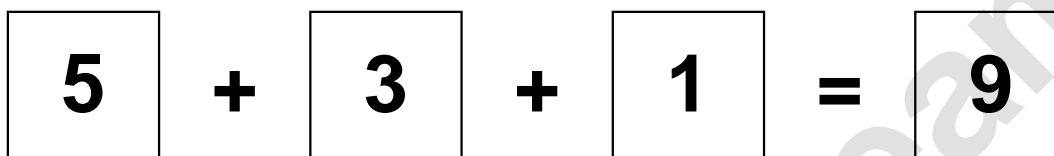
Aufgaben rechnen mit Bildern. Der Würfel.
Ergebnisse im Zahlenbereich bis 16.

Lösungen

Aufgabe 1.)



A visual equation using dice faces. The first square shows 5 dots, followed by a plus sign, a square with 3 dots, another plus sign, a square with 1 dot, an equals sign, and a final square with the number 9.



A numerical equation using boxes. The first box contains the number 5, followed by a plus sign, a box with 3, another plus sign, a box with 1, an equals sign, and a final box with the number 9.

Aufgabe 2.)



A visual equation using dice faces. The first square shows 3 dots, followed by a plus sign, a square with 1 dot, another plus sign, a square with 2 dots, an equals sign, and a final square with the number 6.



A numerical equation using boxes. The first box contains the number 3, followed by a plus sign, a box with 1, another plus sign, a box with 2, an equals sign, and a final box with the number 6.