

Aufgaben rechnen mit Bildern. Der Würfel.  
Ergebnisse im Zahlenbereich bis 16.

Name:	Klasse:	Datum:
-------	---------	--------

**Aufgabe 1.)**

Zähle die Punkte auf den Würfeln und addiere.

$\begin{array}{ccccccc} \boxed{\begin{array}{cc} \bullet & \bullet \\ \bullet & \bullet \end{array}} & + & \boxed{\bullet} & + & \boxed{\bullet} & = & \boxed{\phantom{\bullet}} \\ \\ \boxed{\phantom{\bullet}} & + & \boxed{\phantom{\bullet}} & + & \boxed{\phantom{\bullet}} & = & \boxed{\phantom{\bullet}} \end{array}$

**Aufgabe 2.)**

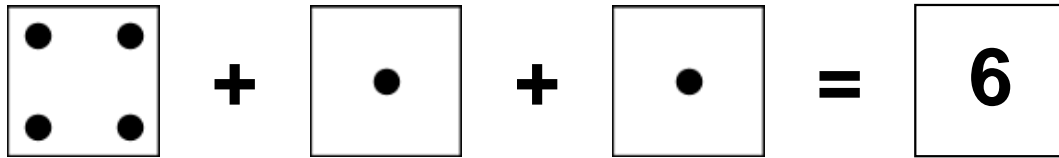
Zähle die Punkte auf den Würfeln und addiere.


$\begin{array}{ccccccc} \boxed{\begin{array}{cc} & \bullet \\ \bullet & \end{array}} & + & \boxed{\begin{array}{cc} \bullet & \bullet \\ \bullet & \bullet \end{array}} & + & \boxed{\begin{array}{cc} & \bullet \\ \bullet & \bullet \end{array}} & = & \boxed{\phantom{\bullet}} \\ \\ \boxed{\phantom{\bullet}} & + & \boxed{\phantom{\bullet}} & + & \boxed{\phantom{\bullet}} & = & \boxed{\phantom{\bullet}} \end{array}$

Aufgaben rechnen mit Bildern. Der Würfel.  
Ergebnisse im Zahlenbereich bis 16.

Lösungen


Aufgabe 1.)


$$\begin{array}{|c|} \hline \bullet & \bullet \\ \hline \bullet & \bullet \\ \hline \end{array} + \begin{array}{|c|} \hline \bullet \\ \hline \end{array} + \begin{array}{|c|} \hline \bullet \\ \hline \end{array} = \begin{array}{|c|} \hline 6 \\ \hline \end{array}$$


$$\begin{array}{|c|} \hline 4 \\ \hline \end{array} + \begin{array}{|c|} \hline 1 \\ \hline \end{array} + \begin{array}{|c|} \hline 1 \\ \hline \end{array} = \begin{array}{|c|} \hline 6 \\ \hline \end{array}$$

Aufgabe 2.)


$$\begin{array}{|c|} \hline & \bullet \\ \hline \bullet & \\ \hline \end{array} + \begin{array}{|c|} \hline \bullet & \bullet \\ \hline \bullet & \bullet \\ \hline \end{array} + \begin{array}{|c|} \hline & \bullet \\ \hline \bullet & \bullet \\ \hline \end{array} = \begin{array}{|c|} \hline 9 \\ \hline \end{array}$$


$$\begin{array}{|c|} \hline 2 \\ \hline \end{array} + \begin{array}{|c|} \hline 4 \\ \hline \end{array} + \begin{array}{|c|} \hline 3 \\ \hline \end{array} = \begin{array}{|c|} \hline 9 \\ \hline \end{array}$$