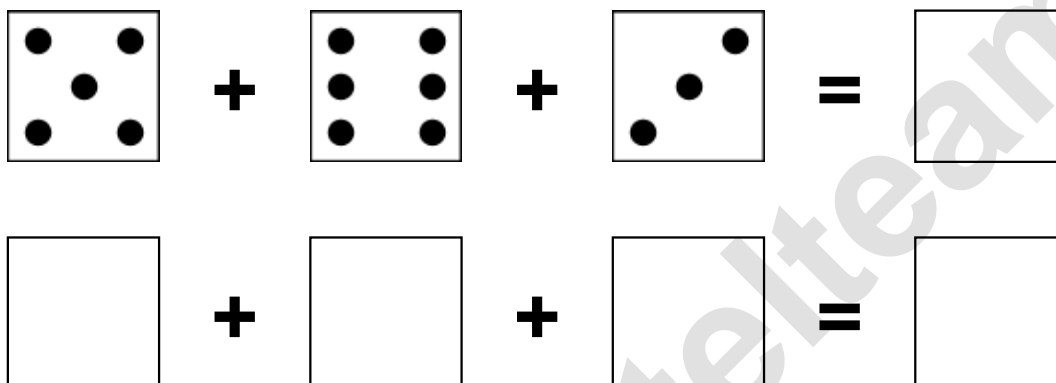


Aufgaben rechnen mit Bildern. Der Würfel.  
Ergebnisse im Zahlenbereich bis 16.

Name:	Klasse:	Datum:
-------	---------	--------

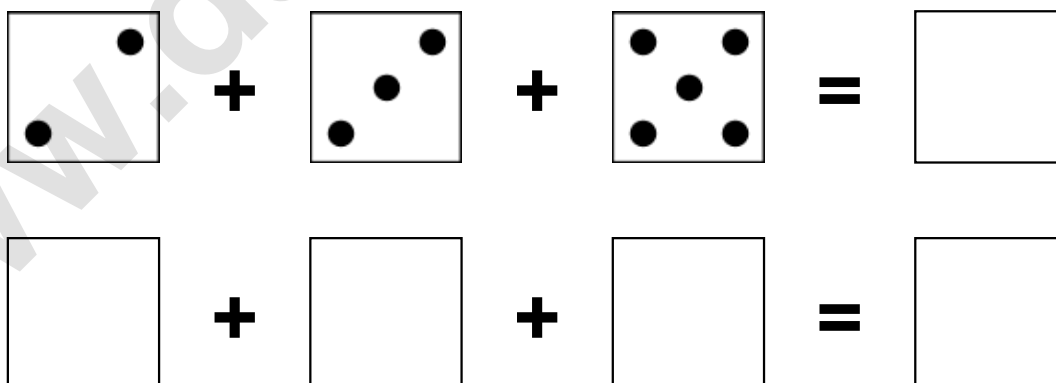
**Aufgabe 1.)**

**Zähle die Punkte auf den Würfeln und addiere.**



**Aufgabe 2.)**


**Zähle die Punkte auf den Würfeln und addiere.**



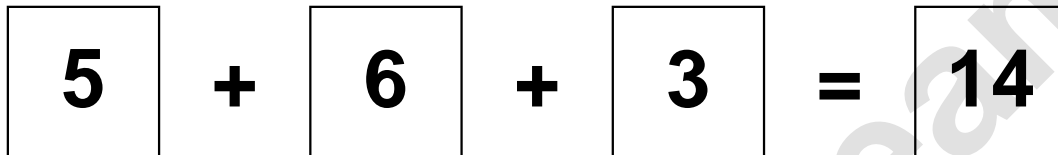
Aufgaben rechnen mit Bildern. Der Würfel.  
Ergebnisse im Zahlenbereich bis 16.

Lösungen

Aufgabe 1.)



A visual equation using dice faces. The first die shows 5 dots, the second shows 6 dots, and the third shows 3 dots. They are added together to equal 14.



A numerical equation: 5 + 6 + 3 = 14.

Aufgabe 2.)



A visual equation using dice faces. The first die shows 2 dots, the second shows 3 dots, and the third shows 5 dots. They are added together to equal 10.



A numerical equation: 2 + 3 + 5 = 10.