

Aufgaben rechnen mit Bildern. Der Würfel.
Ergebnisse im Zahlenbereich bis 16.

Name:	Klasse:	Datum:
-------	---------	--------

Aufgabe 1.)

Zähle die Punkte auf den Würfeln und addiere.

$\begin{array}{|c|} \hline \bullet & \bullet \\ \hline \bullet & \bullet \\ \hline \end{array} + \begin{array}{|c|} \hline & \bullet \\ \hline & \\ \hline \end{array} + \begin{array}{|c|} \hline & \bullet \\ \hline \bullet & \\ \hline \end{array} = \begin{array}{|c|} \hline & \\ \hline & \\ \hline \end{array}$

$\begin{array}{|c|} \hline & \\ \hline & \\ \hline \end{array} + \begin{array}{|c|} \hline & \\ \hline & \\ \hline \end{array} + \begin{array}{|c|} \hline & \\ \hline & \\ \hline \end{array} = \begin{array}{|c|} \hline & \\ \hline & \\ \hline \end{array}$

Aufgabe 2.)

Zähle die Punkte auf den Würfeln und addiere.

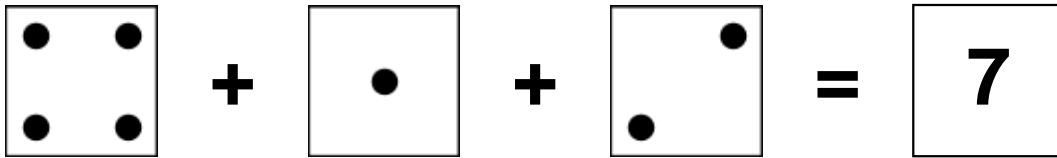
$\begin{array}{|c|} \hline \bullet & \bullet \\ \hline \bullet & \bullet \\ \hline \bullet & \\ \hline \end{array} + \begin{array}{|c|} \hline \bullet & \bullet \\ \hline \bullet & \bullet \\ \hline & \\ \hline \end{array} + \begin{array}{|c|} \hline \bullet & \bullet \\ \hline \bullet & \bullet \\ \hline \bullet & \\ \hline \end{array} = \begin{array}{|c|} \hline & \\ \hline & \\ \hline & \\ \hline \end{array}$

$\begin{array}{|c|} \hline & \\ \hline & \\ \hline \end{array} + \begin{array}{|c|} \hline & \\ \hline & \\ \hline \end{array} + \begin{array}{|c|} \hline & \\ \hline & \\ \hline \end{array} = \begin{array}{|c|} \hline & \\ \hline & \\ \hline \end{array}$


Aufgaben rechnen mit Bildern. Der Würfel.
Ergebnisse im Zahlenbereich bis 16.

Lösungen

Aufgabe 1.)



A visual equation showing three dice faces: a 4, a 1, and a 2, followed by an equals sign and a 7.




4 + 1 + 2 = 7

Aufgabe 2.)



A visual equation showing three dice faces: a 5, a 4, and a 5, followed by an equals sign and a 14.



5 + 4 + 5 = 14