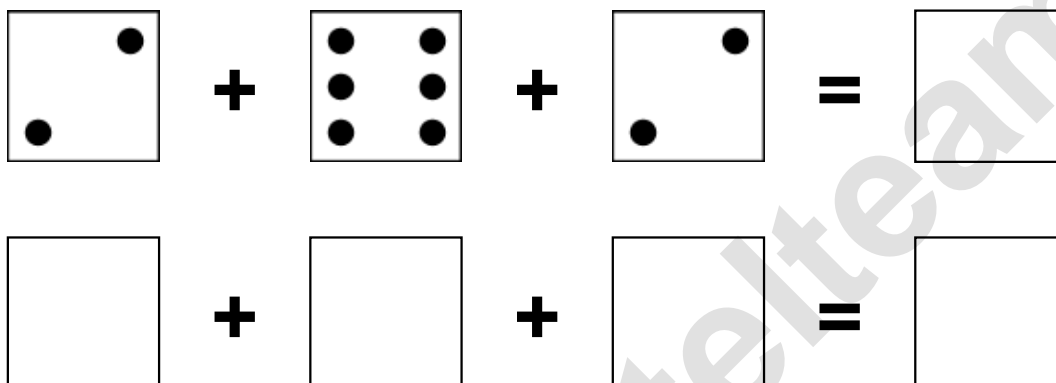


Aufgaben rechnen mit Bildern. Der Würfel.
Ergebnisse im Zahlenbereich bis 16.

Name:	Klasse:	Datum:
-------	---------	--------

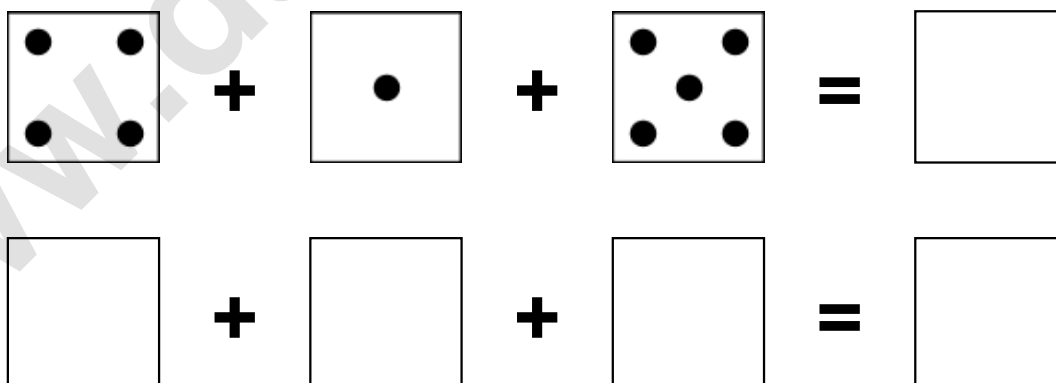
Aufgabe 1.)

Zähle die Punkte auf den Würfeln und addiere.



Aufgabe 2.)


Zähle die Punkte auf den Würfeln und addiere.



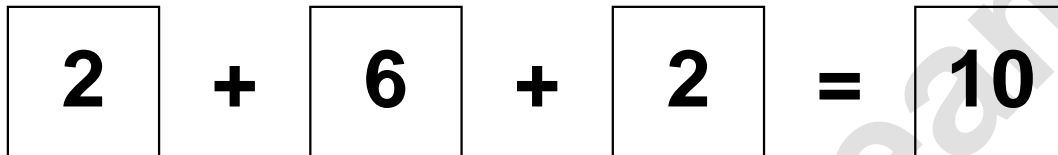
Aufgaben rechnen mit Bildern. Der Würfel.
Ergebnisse im Zahlenbereich bis 16.

Lösungen

Aufgabe 1.)



A visual equation using dice faces. The first die shows 2 dots (bottom-left and top-right), the second shows 6 dots (two columns of three), and the third shows 2 dots (bottom-left and top-right). They are summed to equal 10.




A numerical equation: $2 + 6 + 2 = 10$. Each number is inside a square box.

Aufgabe 2.)



A visual equation using dice faces. The first die shows 4 dots (corners), the second shows 1 dot (center), and the third shows 5 dots (corners and center). They are summed to equal 10.



A numerical equation: $4 + 1 + 5 = 10$. Each number is inside a square box.