

Aufgaben rechnen mit Bildern. Der Würfel.
Ergebnisse im Zahlenbereich bis 16.

Name:	Klasse:	Datum:
-------	---------	--------

Aufgabe 1.)

Zähle die Punkte auf den Würfeln und addiere.

$\begin{array}{|c|} \hline \bullet & \bullet \\ \hline \bullet & \bullet \\ \hline \bullet & \bullet \\ \hline \end{array} + \begin{array}{|c|} \hline \bullet & \bullet \\ \hline & \bullet \\ \hline \bullet & \bullet \\ \hline \end{array} + \begin{array}{|c|} \hline \bullet & \bullet \\ \hline \bullet & \bullet \\ \hline \bullet & \bullet \\ \hline \end{array} = \boxed{}$

$\boxed{} + \boxed{} + \boxed{} = \boxed{}$

Aufgabe 2.)

Zähle die Punkte auf den Würfeln und addiere.

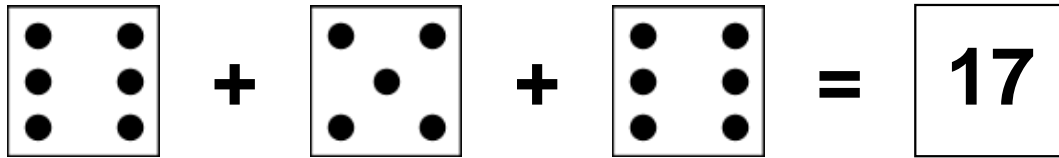
$\begin{array}{|c|} \hline & \bullet \\ \hline \bullet & \\ \hline & \\ \hline \end{array} + \begin{array}{|c|} \hline \bullet & \bullet \\ \hline \bullet & \bullet \\ \hline \bullet & \bullet \\ \hline \end{array} + \begin{array}{|c|} \hline & \\ \hline & \bullet \\ \hline & \\ \hline \end{array} = \boxed{}$


$\boxed{} + \boxed{} + \boxed{} = \boxed{}$

Aufgaben rechnen mit Bildern. Der Würfel.
Ergebnisse im Zahlenbereich bis 16.

Lösungen


Aufgabe 1.)


$$\begin{array}{|c|} \hline \bullet & \bullet \\ \hline \bullet & \bullet \\ \hline \bullet & \bullet \\ \hline \end{array} + \begin{array}{|c|} \hline \bullet & \bullet \\ \hline & \bullet \\ \hline \bullet & \bullet \\ \hline \end{array} + \begin{array}{|c|} \hline \bullet & \bullet \\ \hline \bullet & \bullet \\ \hline \bullet & \bullet \\ \hline \end{array} = \boxed{17}$$


$$\boxed{6} + \boxed{5} + \boxed{6} = \boxed{17}$$

Aufgabe 2.)


$$\begin{array}{|c|} \hline & \bullet \\ \hline \bullet & \\ \hline & \\ \hline \end{array} + \begin{array}{|c|} \hline \bullet & \bullet \\ \hline \bullet & \bullet \\ \hline \bullet & \bullet \\ \hline \end{array} + \begin{array}{|c|} \hline & \\ \hline \bullet & \\ \hline & \\ \hline \end{array} = \boxed{9}$$


$$\boxed{2} + \boxed{6} + \boxed{1} = \boxed{9}$$