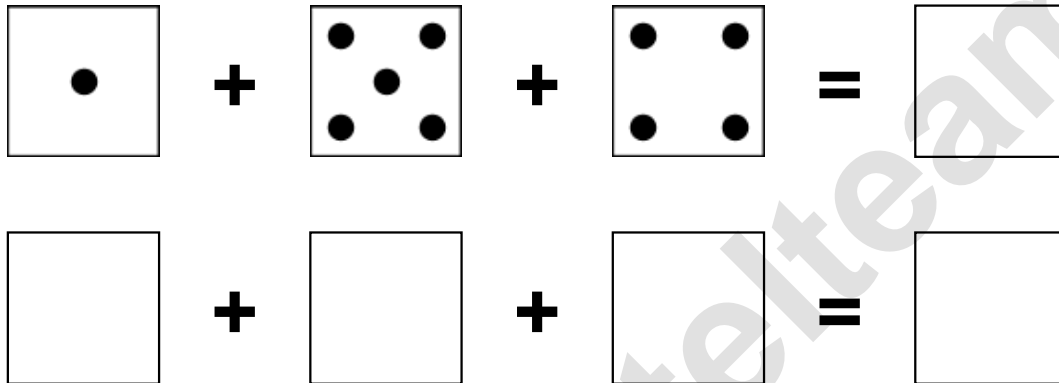


Aufgaben rechnen mit Bildern. Der Würfel.
Ergebnisse im Zahlenbereich bis 16.

Name:	Klasse:	Datum:
-------	---------	--------

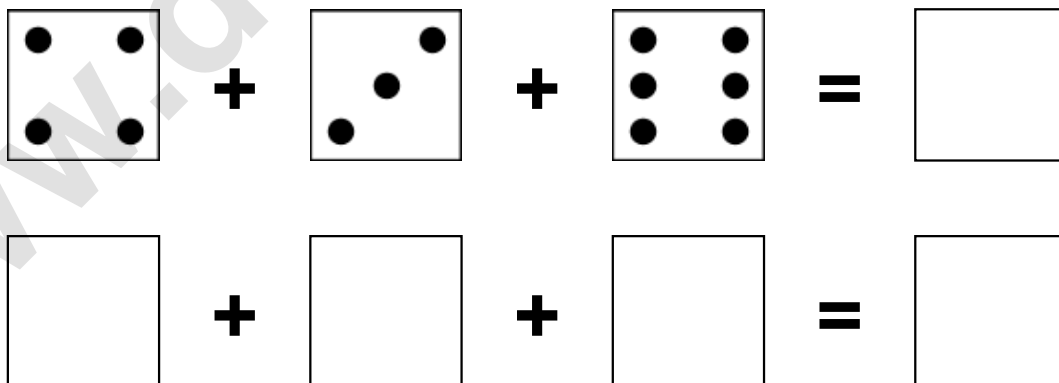
Aufgabe 1.)

Zähle die Punkte auf den Würfeln und addiere.



Aufgabe 2.)


Zähle die Punkte auf den Würfeln und addiere.



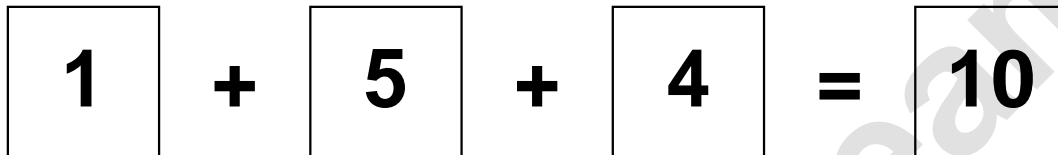
Aufgaben rechnen mit Bildern. Der Würfel.
Ergebnisse im Zahlenbereich bis 16.

Lösungen

Aufgabe 1.)



A visual equation using dice faces. The first die shows 1 dot, the second shows 5 dots, and the third shows 4 dots. They are added together to equal 10.




A numerical equation: 1 + 5 + 4 = 10. Each number is inside a square box.

Aufgabe 2.)



A visual equation using dice faces. The first die shows 4 dots, the second shows 3 dots, and the third shows 6 dots. They are added together to equal 13.



A numerical equation: 4 + 3 + 6 = 13. Each number is inside a square box.