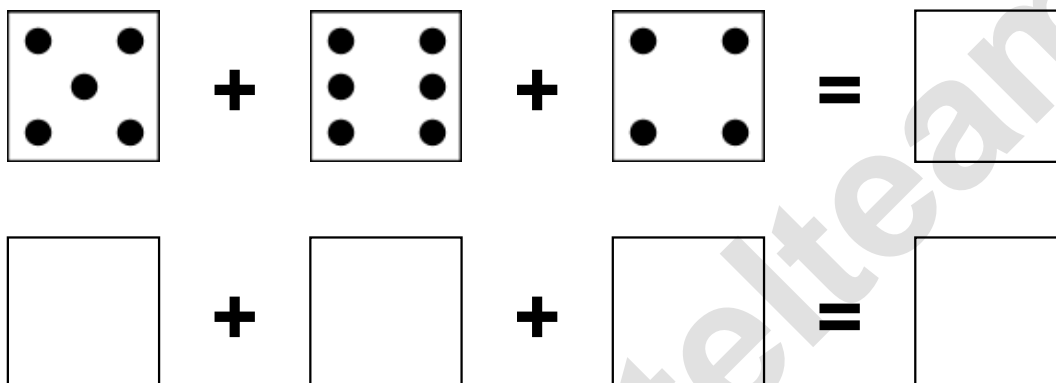


Aufgaben rechnen mit Bildern. Der Würfel.  
Ergebnisse im Zahlenbereich bis 16.

Name:	Klasse:	Datum:
-------	---------	--------

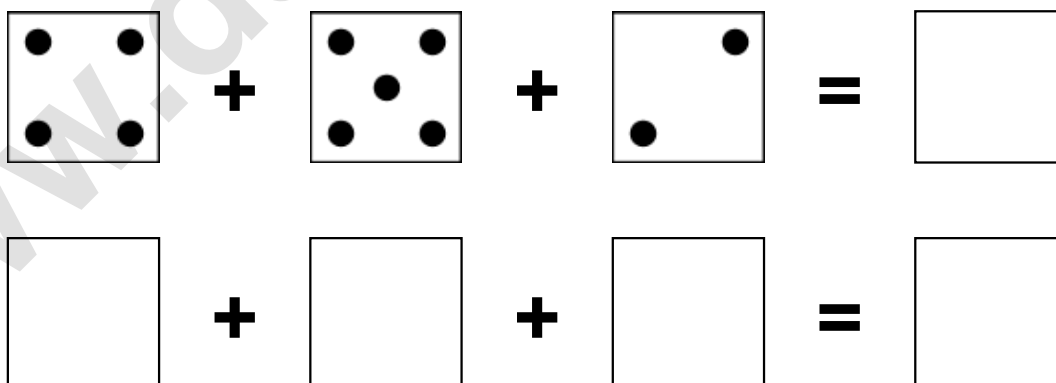
**Aufgabe 1.)**

**Zähle die Punkte auf den Würfeln und addiere.**



**Aufgabe 2.)**

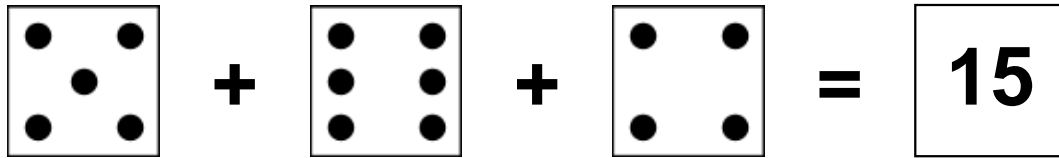
**Zähle die Punkte auf den Würfeln und addiere.**




Aufgaben rechnen mit Bildern. Der Würfel.  
Ergebnisse im Zahlenbereich bis 16.

Lösungen

Aufgabe 1.)



A visual equation using dice faces. The first die shows 5 dots (top-left, top-right, center, bottom-left, bottom-right). The second die shows 6 dots (top-left, top-right, middle-left, middle-right, bottom-left, bottom-right). The third die shows 4 dots (top-left, top-right, bottom-left, bottom-right). The equation is 5 + 6 + 4 = 15.




A numerical equation. Three boxes contain the numbers 5, 6, and 4. The equation is 5 + 6 + 4 = 15.

Aufgabe 2.)



A visual equation using dice faces. The first die shows 4 dots (top-left, top-right, bottom-left, bottom-right). The second die shows 5 dots (top-left, top-right, center, bottom-left, bottom-right). The third die shows 2 dots (top-right, bottom-left). The equation is 4 + 5 + 2 = 11.



A numerical equation. Three boxes contain the numbers 4, 5, and 2. The equation is 4 + 5 + 2 = 11.