

Aufgaben rechnen mit Bildern. Der Würfel.
Ergebnisse im Zahlenbereich bis 16.

| | | |
|-------|---------|--------|
| Name: | Klasse: | Datum: |
|-------|---------|--------|

Aufgabe 1.)

Zähle die Punkte auf den Würfeln und addiere.

$$\begin{array}{ccccccc} \square & + & \square & + & \square & = & \square \\ \begin{array}{|c|} \hline \bullet \\ \hline \bullet \\ \hline \end{array} & & \begin{array}{|c|} \hline \bullet \\ \hline \end{array} & & \begin{array}{|c|} \hline \bullet \\ \hline \end{array} & & \square \\ \square & + & \square & + & \square & = & \square \end{array}$$

Aufgabe 2.)

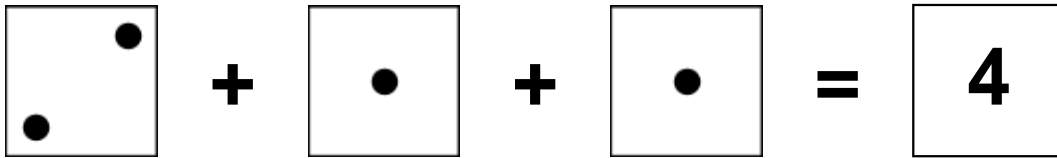
Zähle die Punkte auf den Würfeln und addiere.

$$\begin{array}{ccccccc} \square & + & \square & + & \square & = & \square \\ \begin{array}{|c|} \hline \bullet \bullet \\ \bullet \bullet \\ \bullet \bullet \\ \hline \end{array} & & \begin{array}{|c|} \hline \bullet \\ \bullet \\ \hline \end{array} & & \begin{array}{|c|} \hline \bullet \bullet \\ \bullet \\ \bullet \bullet \\ \hline \end{array} & & \square \\ \square & + & \square & + & \square & = & \square \end{array}$$


Aufgaben rechnen mit Bildern. Der Würfel.
Ergebnisse im Zahlenbereich bis 16.

Lösungen

Aufgabe 1.)



A visual equation showing three dice faces: a 2, a 1, and a 1, followed by an equals sign and a 4.




2 + 1 + 1 = 4

Aufgabe 2.)



A visual equation showing three dice faces: a 6, a 2, and a 5, followed by an equals sign and a 13.



6 + 2 + 5 = 13