

Aufgaben rechnen mit Bildern. Der Würfel.  
Ergebnisse im Zahlenbereich bis 16.

|       |         |        |
|-------|---------|--------|
| Name: | Klasse: | Datum: |
|-------|---------|--------|

**Aufgabe 1.)**

Zähle die Punkte auf den Würfeln und addiere.

$\begin{array}{|c|} \hline \bullet & \bullet \\ \hline \bullet & \bullet \\ \hline \bullet & \bullet \\ \hline \end{array} + \begin{array}{|c|} \hline \bullet & \bullet \\ \hline & \\ \hline \bullet & \bullet \\ \hline \end{array} + \begin{array}{|c|} \hline & \\ \hline & \\ \hline & \\ \hline \bullet & \\ \hline \end{array} = \begin{array}{|c|} \hline & \\ \hline & \\ \hline & \\ \hline & \\ \hline \end{array}$

$\begin{array}{|c|} \hline & \\ \hline & \\ \hline & \\ \hline & \\ \hline \end{array} + \begin{array}{|c|} \hline & \\ \hline & \\ \hline & \\ \hline & \\ \hline \end{array} + \begin{array}{|c|} \hline & \\ \hline & \\ \hline & \\ \hline & \\ \hline \end{array} = \begin{array}{|c|} \hline & \\ \hline & \\ \hline & \\ \hline & \\ \hline \end{array}$

**Aufgabe 2.)**

Zähle die Punkte auf den Würfeln und addiere.


$\begin{array}{|c|} \hline & \bullet \\ \hline \bullet & \\ \hline & \\ \hline & \\ \hline \end{array} + \begin{array}{|c|} \hline & \\ \hline & \\ \hline & \\ \hline & \\ \hline \bullet & \\ \hline \end{array} + \begin{array}{|c|} \hline & \bullet \\ \hline & \\ \hline \bullet & \\ \hline & \\ \hline \end{array} = \begin{array}{|c|} \hline & \\ \hline & \\ \hline & \\ \hline & \\ \hline \end{array}$

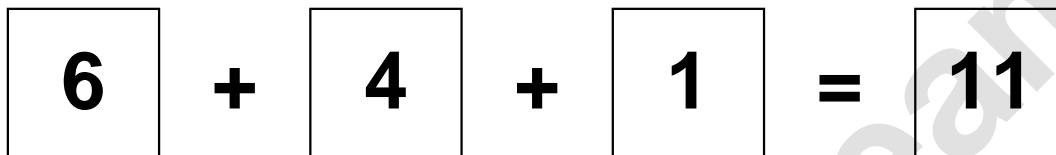
$\begin{array}{|c|} \hline & \\ \hline & \\ \hline & \\ \hline & \\ \hline \end{array} + \begin{array}{|c|} \hline & \\ \hline & \\ \hline & \\ \hline & \\ \hline \end{array} + \begin{array}{|c|} \hline & \\ \hline & \\ \hline & \\ \hline & \\ \hline \end{array} = \begin{array}{|c|} \hline & \\ \hline & \\ \hline & \\ \hline & \\ \hline \end{array}$

Aufgaben rechnen mit Bildern. Der Würfel.  
Ergebnisse im Zahlenbereich bis 16.


Lösungen


Aufgabe 1.)


$$\begin{array}{|c|} \hline \bullet & \bullet \\ \bullet & \bullet \\ \bullet & \bullet \\ \hline \end{array} + \begin{array}{|c|} \hline \bullet & \bullet \\ \bullet & \bullet \\ \hline \end{array} + \begin{array}{|c|} \hline \bullet \\ \hline \end{array} = \begin{array}{|c|} \hline 11 \\ \hline \end{array}$$


$$\begin{array}{|c|} \hline 6 \\ \hline \end{array} + \begin{array}{|c|} \hline 4 \\ \hline \end{array} + \begin{array}{|c|} \hline 1 \\ \hline \end{array} = \begin{array}{|c|} \hline 11 \\ \hline \end{array}$$

Aufgabe 2.)


$$\begin{array}{|c|} \hline & \bullet \\ \bullet & \\ \hline \end{array} + \begin{array}{|c|} \hline \bullet \\ \hline \end{array} + \begin{array}{|c|} \hline & \bullet \\ \bullet & \\ \hline \end{array} = \begin{array}{|c|} \hline 5 \\ \hline \end{array}$$


$$\begin{array}{|c|} \hline 2 \\ \hline \end{array} + \begin{array}{|c|} \hline 1 \\ \hline \end{array} + \begin{array}{|c|} \hline 2 \\ \hline \end{array} = \begin{array}{|c|} \hline 5 \\ \hline \end{array}$$