

Aufgaben rechnen mit Bildern. Der Würfel.
Ergebnisse im Zahlenbereich bis 16.

Name:	Klasse:	Datum:
-------	---------	--------

Aufgabe 1.)

Zähle die Punkte auf den Würfeln und addiere.

$\begin{array}{|c|} \hline \bullet & & \bullet \\ & \bullet & \\ \hline \bullet & & \bullet \\ \hline \end{array} + \begin{array}{|c|} \hline \bullet & \bullet \\ & \\ \hline \bullet & \bullet \\ \hline \end{array} + \begin{array}{|c|} \hline \bullet & \bullet \\ \bullet & \bullet \\ \bullet & \bullet \\ \hline \end{array} = \begin{array}{|c|} \hline \\ \hline \end{array}$

$\begin{array}{|c|} \hline \\ \hline \end{array} + \begin{array}{|c|} \hline \\ \hline \end{array} + \begin{array}{|c|} \hline \\ \hline \end{array} = \begin{array}{|c|} \hline \\ \hline \end{array}$

Aufgabe 2.)

Zähle die Punkte auf den Würfeln und addiere.


$\begin{array}{|c|} \hline \\ \bullet \\ \hline \end{array} + \begin{array}{|c|} \hline \bullet & \bullet \\ & \\ \hline \bullet & \bullet \\ \hline \end{array} + \begin{array}{|c|} \hline & \bullet \\ & \bullet \\ \bullet & \bullet \\ \hline \end{array} = \begin{array}{|c|} \hline \\ \hline \end{array}$

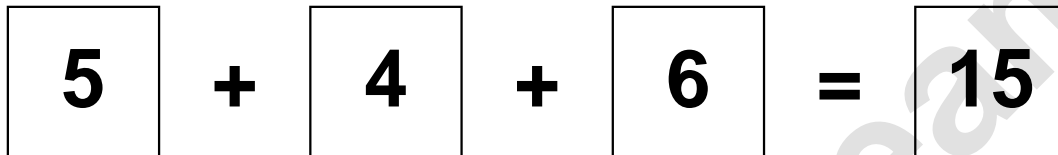
$\begin{array}{|c|} \hline \\ \hline \end{array} + \begin{array}{|c|} \hline \\ \hline \end{array} + \begin{array}{|c|} \hline \\ \hline \end{array} = \begin{array}{|c|} \hline \\ \hline \end{array}$

Aufgaben rechnen mit Bildern. Der Würfel.
Ergebnisse im Zahlenbereich bis 16.

Lösungen


Aufgabe 1.)


$$\begin{array}{|c|} \hline \bullet & & \bullet \\ & \bullet & \\ \bullet & & \bullet \\ \hline \end{array} + \begin{array}{|c|} \hline \bullet & \bullet \\ & \\ \bullet & \bullet \\ \hline \end{array} + \begin{array}{|c|} \hline \bullet & \bullet \\ \bullet & \bullet \\ \bullet & \bullet \\ \hline \end{array} = \boxed{15}$$


$$\boxed{5} + \boxed{4} + \boxed{6} = \boxed{15}$$

Aufgabe 2.)


$$\begin{array}{|c|} \hline \\ \bullet \\ \\ \hline \end{array} + \begin{array}{|c|} \hline \bullet & \bullet \\ & \\ \bullet & \bullet \\ \hline \end{array} + \begin{array}{|c|} \hline & \bullet \\ \bullet & \bullet \\ & \\ \hline \end{array} = \boxed{8}$$


$$\boxed{1} + \boxed{4} + \boxed{3} = \boxed{8}$$