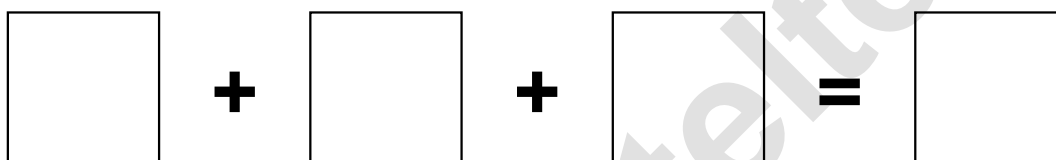



Aufgaben rechnen mit Bildern. Der Würfel.
Ergebnisse im Zahlenbereich bis 16.

Name:	Klasse:	Datum:
-------	---------	--------

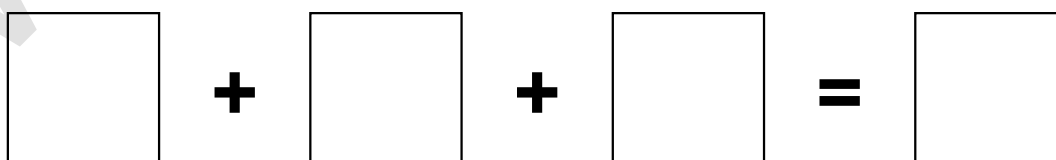

Aufgabe 1.)

Zähle die Punkte auf den Würfeln und addiere.



Aufgabe 2.)

Zähle die Punkte auf den Würfeln und addiere.



Aufgaben rechnen mit Bildern. Der Würfel.
Ergebnisse im Zahlenbereich bis 16.

Lösungen

Aufgabe 1.)

A visual equation showing three dice faces: 1, 3, and 5, followed by an equals sign and a box containing the number 9.

1 + 3 + 5 = 9

Aufgabe 2.)

A visual equation showing three dice faces: 6, 1, and 6, followed by an equals sign and a box containing the number 13.

6 + 1 + 6 = 13