

Aufgaben rechnen mit Bildern. Der Würfel.  
Ergebnisse im Zahlenbereich bis 16.

|       |         |        |
|-------|---------|--------|
| Name: | Klasse: | Datum: |
|-------|---------|--------|

**Aufgabe 1.)**

**Zähle die Punkte auf den Würfeln und addiere.**

$$\begin{array}{ccccccc} \begin{array}{|c|c|} \hline \bullet & \bullet \\ \hline \bullet & \bullet \\ \hline \bullet & \bullet \\ \hline \end{array} & + & \begin{array}{|c|c|} \hline \bullet & \bullet \\ \hline & \bullet \\ \hline \bullet & \bullet \\ \hline \end{array} & + & \begin{array}{|c|c|} \hline & \bullet \\ \hline \bullet & \\ \hline & \\ \hline \end{array} & = & \begin{array}{|c|c|} \hline & \\ \hline & \\ \hline & \\ \hline \end{array} \\ \\ \begin{array}{|c|c|} \hline & \\ \hline & \\ \hline & \\ \hline \end{array} & + & \begin{array}{|c|c|} \hline & \\ \hline & \\ \hline & \\ \hline \end{array} & + & \begin{array}{|c|c|} \hline & \\ \hline & \\ \hline & \\ \hline \end{array} & = & \begin{array}{|c|c|} \hline & \\ \hline & \\ \hline & \\ \hline \end{array} \end{array}$$

**Aufgabe 2.)**


**Zähle die Punkte auf den Würfeln und addiere.**

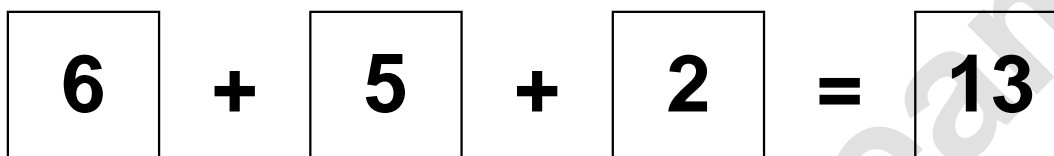
$$\begin{array}{ccccccc} \begin{array}{|c|c|} \hline & \bullet \\ \hline \bullet & \\ \hline & \\ \hline \end{array} & + & \begin{array}{|c|c|} \hline \bullet & \bullet \\ \hline \bullet & \bullet \\ \hline \bullet & \bullet \\ \hline \end{array} & + & \begin{array}{|c|c|} \hline & \bullet \\ \hline & \\ \hline & \\ \hline \end{array} & = & \begin{array}{|c|c|} \hline & \\ \hline & \\ \hline & \\ \hline \end{array} \\ \\ \begin{array}{|c|c|} \hline & \\ \hline & \\ \hline & \\ \hline \end{array} & + & \begin{array}{|c|c|} \hline & \\ \hline & \\ \hline & \\ \hline \end{array} & + & \begin{array}{|c|c|} \hline & \\ \hline & \\ \hline & \\ \hline \end{array} & = & \begin{array}{|c|c|} \hline & \\ \hline & \\ \hline & \\ \hline \end{array} \end{array}$$

Aufgaben rechnen mit Bildern. Der Würfel.  
Ergebnisse im Zahlenbereich bis 16.

Lösungen


Aufgabe 1.)


$$\begin{array}{|c|} \hline \bullet \bullet \\ \bullet \bullet \\ \bullet \bullet \\ \hline \end{array} + \begin{array}{|c|} \hline \bullet \bullet \\ \bullet \\ \bullet \bullet \\ \hline \end{array} + \begin{array}{|c|} \hline \bullet \\ \\ \bullet \\ \hline \end{array} = \begin{array}{|c|} \hline 13 \\ \hline \end{array}$$


$$\begin{array}{|c|} \hline 6 \\ \hline \end{array} + \begin{array}{|c|} \hline 5 \\ \hline \end{array} + \begin{array}{|c|} \hline 2 \\ \hline \end{array} = \begin{array}{|c|} \hline 13 \\ \hline \end{array}$$

Aufgabe 2.)


$$\begin{array}{|c|} \hline \bullet \\ \\ \bullet \\ \hline \end{array} + \begin{array}{|c|} \hline \bullet \bullet \\ \bullet \bullet \\ \bullet \bullet \\ \hline \end{array} + \begin{array}{|c|} \hline \bullet \\ \\ \\ \hline \end{array} = \begin{array}{|c|} \hline 9 \\ \hline \end{array}$$


$$\begin{array}{|c|} \hline 2 \\ \hline \end{array} + \begin{array}{|c|} \hline 6 \\ \hline \end{array} + \begin{array}{|c|} \hline 1 \\ \hline \end{array} = \begin{array}{|c|} \hline 9 \\ \hline \end{array}$$