

Aufgaben rechnen mit Bildern. Der Würfel.  
Ergebnisse im Zahlenbereich bis 16.

Name:	Klasse:	Datum:
-------	---------	--------

**Aufgabe 1.)**

Zähle die Punkte auf den Würfeln und addiere.

$$\begin{array}{|c|} \hline \bullet & & \bullet \\ & \bullet & \\ \bullet & & \bullet \\ \hline \end{array} + \begin{array}{|c|} \hline & & \bullet \\ & & \\ \bullet & & \\ \hline \end{array} + \begin{array}{|c|} \hline \bullet & & \bullet \\ & \bullet & \\ \bullet & & \bullet \\ \hline \end{array} = \begin{array}{|c|} \hline \\ \hline \end{array}$$

$$\begin{array}{|c|} \hline \\ \hline \end{array} + \begin{array}{|c|} \hline \\ \hline \end{array} + \begin{array}{|c|} \hline \\ \hline \end{array} = \begin{array}{|c|} \hline \\ \hline \end{array}$$

**Aufgabe 2.)**

Zähle die Punkte auf den Würfeln und addiere.

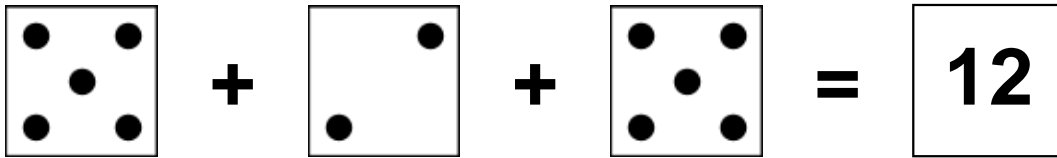
$$\begin{array}{|c|} \hline \bullet & & \bullet \\ \bullet & & \bullet \\ \bullet & & \bullet \\ \hline \end{array} + \begin{array}{|c|} \hline \bullet & & \bullet \\ & \bullet & \\ \bullet & & \bullet \\ \hline \end{array} + \begin{array}{|c|} \hline \bullet & & \bullet \\ \bullet & & \bullet \\ \bullet & & \bullet \\ \hline \end{array} = \begin{array}{|c|} \hline \\ \hline \end{array}$$


$$\begin{array}{|c|} \hline \\ \hline \end{array} + \begin{array}{|c|} \hline \\ \hline \end{array} + \begin{array}{|c|} \hline \\ \hline \end{array} = \begin{array}{|c|} \hline \\ \hline \end{array}$$

Aufgaben rechnen mit Bildern. Der Würfel.  
Ergebnisse im Zahlenbereich bis 16.

Lösungen


Aufgabe 1.)


$$\begin{array}{|c|} \hline \bullet & & \bullet \\ \hline \bullet & \bullet & \\ \hline \bullet & & \bullet \\ \hline \end{array} + \begin{array}{|c|} \hline & & \bullet \\ \hline & & \\ \hline \bullet & & \\ \hline \end{array} + \begin{array}{|c|} \hline \bullet & & \bullet \\ \hline \bullet & \bullet & \\ \hline \bullet & & \bullet \\ \hline \end{array} = \boxed{12}$$


$$\boxed{5} + \boxed{2} + \boxed{5} = \boxed{12}$$

Aufgabe 2.)


$$\begin{array}{|c|} \hline \bullet & & \bullet \\ \hline \bullet & \bullet & \\ \hline \bullet & & \bullet \\ \hline \end{array} + \begin{array}{|c|} \hline \bullet & & \bullet \\ \hline \bullet & \bullet & \\ \hline \bullet & & \bullet \\ \hline \end{array} + \begin{array}{|c|} \hline \bullet & & \bullet \\ \hline \bullet & \bullet & \\ \hline \bullet & & \bullet \\ \hline \end{array} = \boxed{17}$$


$$\boxed{6} + \boxed{5} + \boxed{6} = \boxed{17}$$