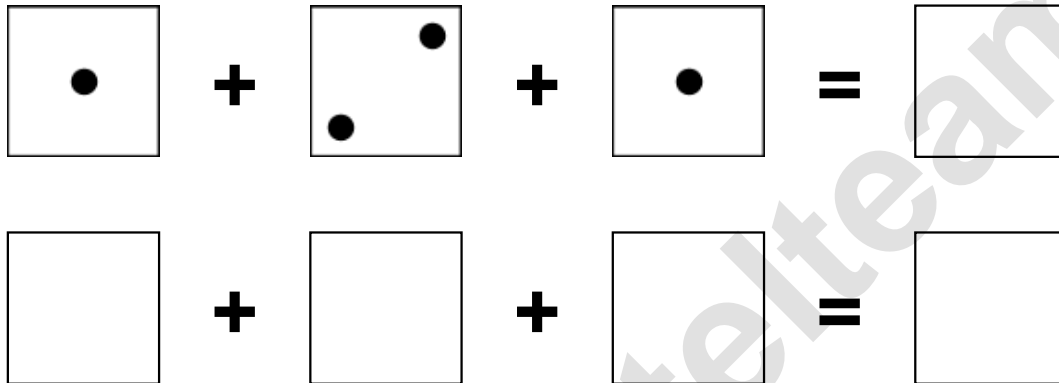


Aufgaben rechnen mit Bildern. Der Würfel.  
Ergebnisse im Zahlenbereich bis 16.

Name:	Klasse:	Datum:
-------	---------	--------

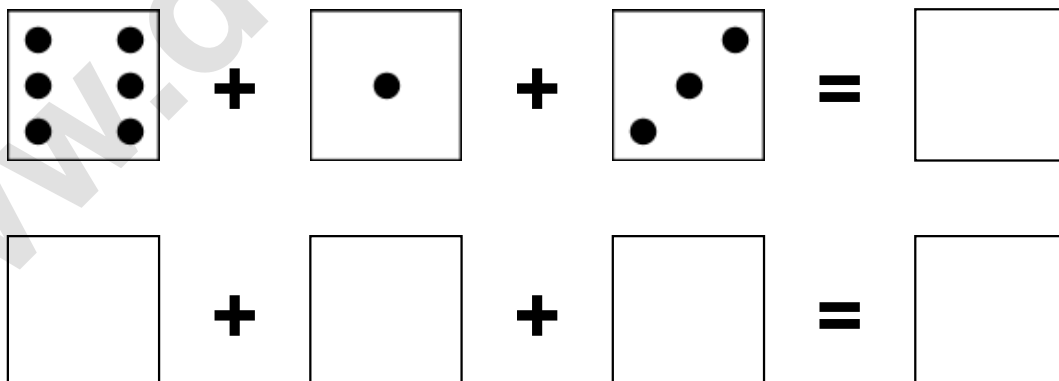
**Aufgabe 1.)**

**Zähle die Punkte auf den Würfeln und addiere.**



**Aufgabe 2.)**


**Zähle die Punkte auf den Würfeln und addiere.**

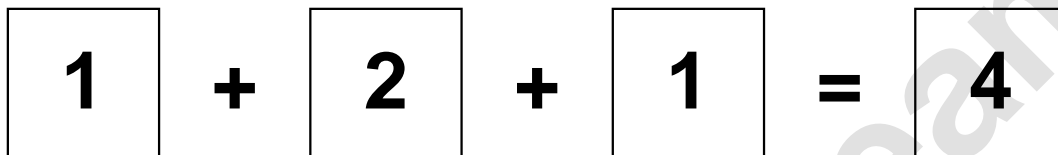


Aufgaben rechnen mit Bildern. Der Würfel.  
Ergebnisse im Zahlenbereich bis 16.

Lösungen


Aufgabe 1.)


$$\boxed{\cdot} + \boxed{\cdot \cdot} + \boxed{\cdot} = \boxed{4}$$


$$\boxed{1} + \boxed{2} + \boxed{1} = \boxed{4}$$

Aufgabe 2.)


$$\boxed{\cdot \cdot \cdot \cdot \cdot \cdot} + \boxed{\cdot} + \boxed{\cdot \cdot \cdot} = \boxed{10}$$


$$\boxed{6} + \boxed{1} + \boxed{3} = \boxed{10}$$