

Aufgaben rechnen mit Bildern. Der Würfel.
Ergebnisse im Zahlenbereich bis 16.

Name:	Klasse:	Datum:
-------	---------	--------

Aufgabe 1.)

Zähle die Punkte auf den Würfeln und addiere.

$$\begin{array}{ccccccc} \boxed{\begin{array}{|c|} \hline \bullet \\ \hline \bullet \\ \hline \bullet \end{array}} & + & \boxed{\begin{array}{|c|} \hline \bullet \\ \hline \bullet \\ \hline \bullet \end{array}} & + & \boxed{\begin{array}{|c|} \hline \bullet \\ \hline \bullet \\ \hline \bullet \end{array}} & = & \boxed{} \\ \boxed{} & + & \boxed{} & + & \boxed{} & = & \boxed{} \end{array}$$

Aufgabe 2.)


Zähle die Punkte auf den Würfeln und addiere.

$$\begin{array}{ccccccc} \boxed{\begin{array}{|c|} \hline \bullet \\ \hline \bullet \\ \hline \bullet \\ \hline \bullet \end{array}} & + & \boxed{\begin{array}{|c|} \hline \bullet \\ \hline \bullet \\ \hline \bullet \end{array}} & + & \boxed{\begin{array}{|c|} \hline \bullet \\ \hline \bullet \\ \hline \bullet \end{array}} & = & \boxed{} \\ \boxed{} & + & \boxed{} & + & \boxed{} & = & \boxed{} \end{array}$$

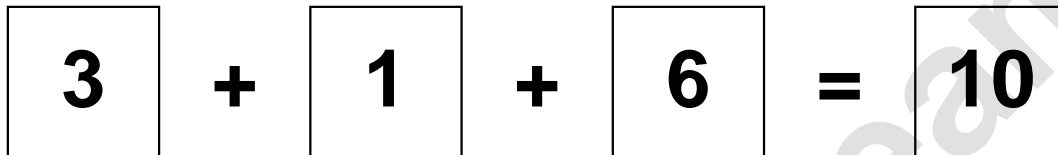
Aufgaben rechnen mit Bildern. Der Würfel.
Ergebnisse im Zahlenbereich bis 16.

Lösungen

Aufgabe 1.)



A visual equation using dice faces. The first die shows 3 dots, the second shows 1 dot, and the third shows 6 dots. They are added together to equal 10.




A numerical equation: 3 + 1 + 6 = 10. Each number is inside a square box.

Aufgabe 2.)



A visual equation using dice faces. The first die shows 4 dots, the second shows 6 dots, and the third shows 6 dots. They are added together to equal 16.



A numerical equation: 4 + 6 + 6 = 16. Each number is inside a square box.