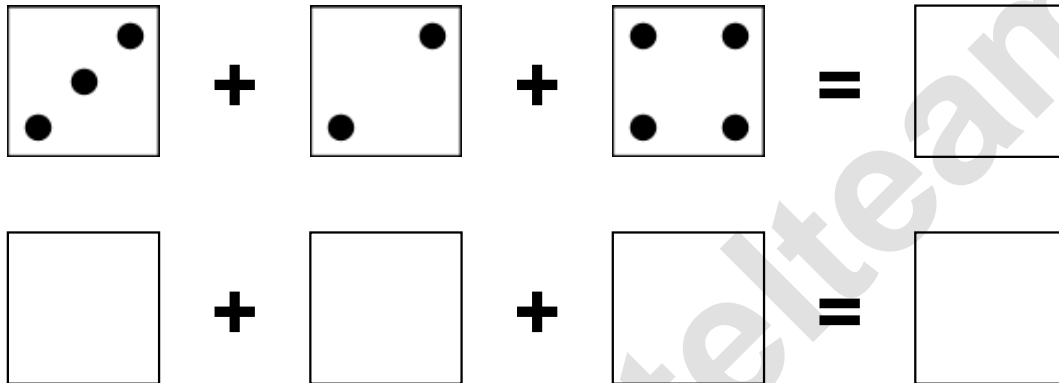


Aufgaben rechnen mit Bildern. Der Würfel.
Ergebnisse im Zahlenbereich bis 16.

Name:	Klasse:	Datum:
-------	---------	--------

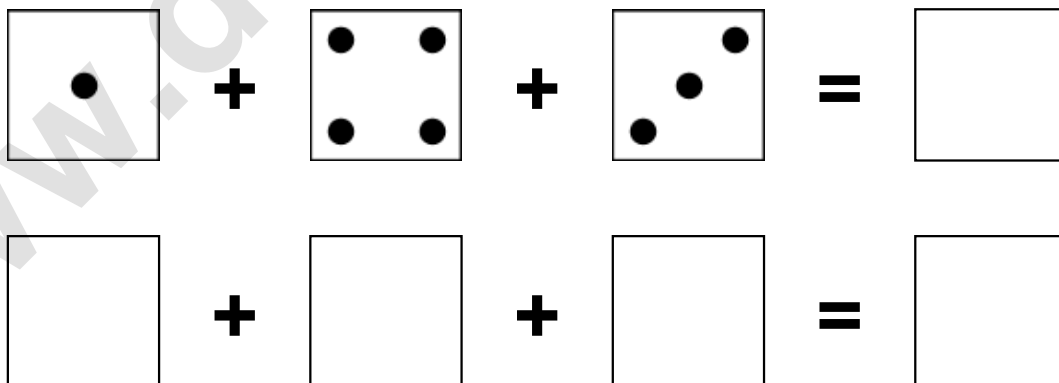
Aufgabe 1.)

Zähle die Punkte auf den Würfeln und addiere.



Aufgabe 2.)


Zähle die Punkte auf den Würfeln und addiere.

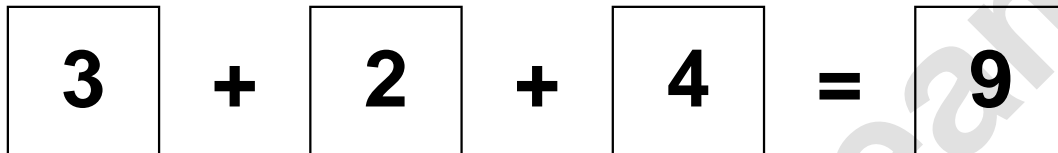


Aufgaben rechnen mit Bildern. Der Würfel.
Ergebnisse im Zahlenbereich bis 16.

Lösungen

Aufgabe 1.)


$$\begin{array}{|c|} \hline \bullet \\ \bullet \\ \bullet \end{array} + \begin{array}{|c|} \hline \bullet \\ \bullet \end{array} + \begin{array}{|c|} \hline \bullet \bullet \\ \bullet \bullet \end{array} = \begin{array}{|c|} \hline 9 \end{array}$$


$$\begin{array}{|c|} \hline 3 \end{array} + \begin{array}{|c|} \hline 2 \end{array} + \begin{array}{|c|} \hline 4 \end{array} = \begin{array}{|c|} \hline 9 \end{array}$$

Aufgabe 2.)


$$\begin{array}{|c|} \hline \bullet \end{array} + \begin{array}{|c|} \hline \bullet \bullet \\ \bullet \bullet \end{array} + \begin{array}{|c|} \hline \bullet \\ \bullet \bullet \end{array} = \begin{array}{|c|} \hline 8 \end{array}$$


$$\begin{array}{|c|} \hline 1 \end{array} + \begin{array}{|c|} \hline 4 \end{array} + \begin{array}{|c|} \hline 3 \end{array} = \begin{array}{|c|} \hline 8 \end{array}$$