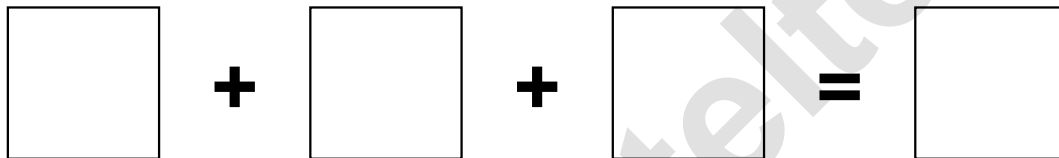



Aufgaben rechnen mit Bildern. Der Würfel.  
Ergebnisse im Zahlenbereich bis 16.

Name:	Klasse:	Datum:
-------	---------	--------



**Aufgabe 1.)**

Zähle die Punkte auf den Würfeln und addiere.



**Aufgabe 2.)**

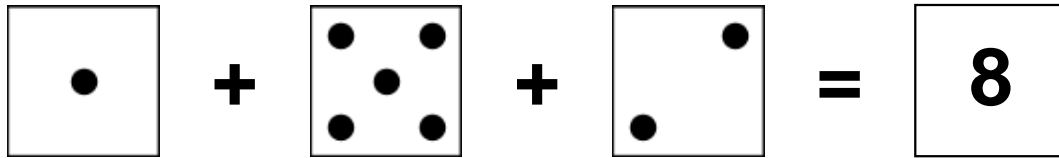
Zähle die Punkte auf den Würfeln und addiere.




Aufgaben rechnen mit Bildern. Der Würfel.  
Ergebnisse im Zahlenbereich bis 16.

Lösungen

Aufgabe 1.)



A visual equation showing three dice faces: 1, 5, and 2, followed by an equals sign and a box containing the number 8.




1 + 5 + 2 = 8

Aufgabe 2.)



A visual equation showing three dice faces: 2, 4, and 5, followed by an equals sign and a box containing the number 11.



2 + 4 + 5 = 11