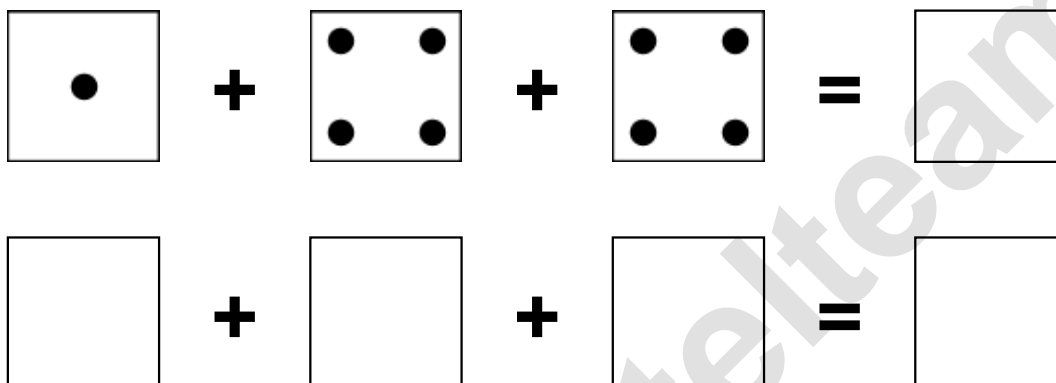


Aufgaben rechnen mit Bildern. Der Würfel.
Ergebnisse im Zahlenbereich bis 16.

Name:	Klasse:	Datum:
-------	---------	--------

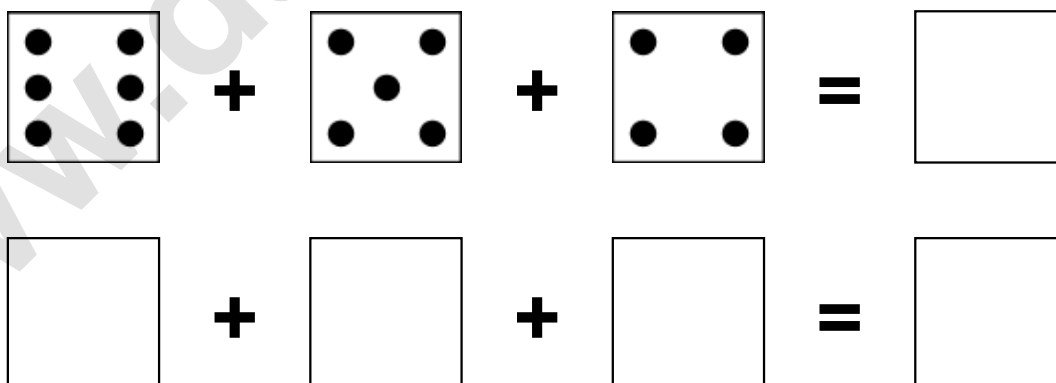
Aufgabe 1.)

Zähle die Punkte auf den Würfeln und addiere.



Aufgabe 2.)


Zähle die Punkte auf den Würfeln und addiere.



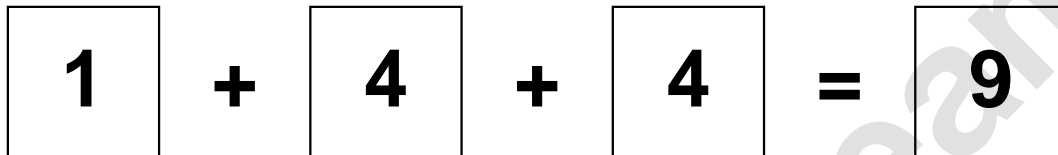
Aufgaben rechnen mit Bildern. Der Würfel.
Ergebnisse im Zahlenbereich bis 16.

Lösungen

Aufgabe 1.)



A visual equation using dice faces. The first die shows 1 dot, followed by a plus sign, then a die showing 4 dots, another plus sign, a die showing 4 dots, an equals sign, and finally a die showing 9 dots.




A numerical equation using boxes. The first box contains the number 1, followed by a plus sign, then a box containing 4, another plus sign, a box containing 4, an equals sign, and finally a box containing 9.

Aufgabe 2.)



A visual equation using dice faces. The first die shows 6 dots, followed by a plus sign, then a die showing 5 dots, another plus sign, a die showing 4 dots, an equals sign, and finally a die showing 15 dots.



A numerical equation using boxes. The first box contains the number 6, followed by a plus sign, then a box containing 5, another plus sign, a box containing 4, an equals sign, and finally a box containing 15.