

Aufgaben rechnen mit Bildern. Der Würfel.
Ergebnisse im Zahlenbereich bis 16.

Name:	Klasse:	Datum:
-------	---------	--------

Aufgabe 1.)

Zähle die Punkte auf den Würfeln und addiere.

$$\begin{array}{ccccccc} \square & + & \square & + & \square & = & \square \\ \begin{array}{|c|} \hline \bullet \\ \hline \bullet \\ \hline \end{array} & & \begin{array}{|c|} \hline \bullet & \bullet \\ \hline \bullet & \bullet \\ \hline \end{array} & & \begin{array}{|c|} \hline \bullet \\ \hline \bullet \\ \hline \end{array} & & \\ \square & + & \square & + & \square & = & \square \end{array}$$

Aufgabe 2.)

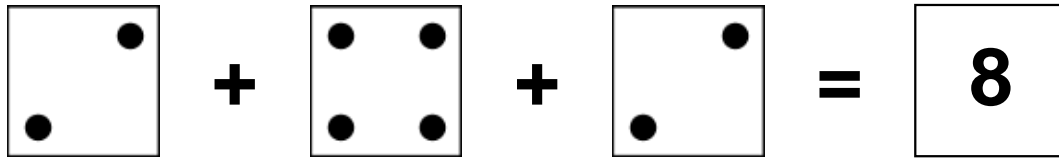
Zähle die Punkte auf den Würfeln und addiere.


$$\begin{array}{ccccccc} \square & + & \square & + & \square & = & \square \\ \begin{array}{|c|} \hline \bullet & \bullet \\ \hline \bullet & \bullet \\ \hline \end{array} & & \begin{array}{|c|} \hline \bullet & \bullet \\ \hline \bullet & \bullet \\ \hline \end{array} & & \begin{array}{|c|} \hline \bullet \\ \hline \bullet \\ \hline \bullet \\ \hline \end{array} & & \\ \square & + & \square & + & \square & = & \square \end{array}$$

Aufgaben rechnen mit Bildern. Der Würfel.
Ergebnisse im Zahlenbereich bis 16.

Lösungen


Aufgabe 1.)


$$\begin{array}{|c|} \hline \bullet \\ \hline \bullet \\ \hline \end{array} + \begin{array}{|c|} \hline \bullet \bullet \\ \hline \bullet \bullet \\ \hline \end{array} + \begin{array}{|c|} \hline \bullet \\ \hline \bullet \\ \hline \end{array} = \boxed{8}$$


$$\boxed{2} + \boxed{4} + \boxed{2} = \boxed{8}$$

Aufgabe 2.)


$$\begin{array}{|c|} \hline \bullet \bullet \\ \hline \bullet \bullet \\ \hline \end{array} + \begin{array}{|c|} \hline \bullet \bullet \\ \hline \bullet \bullet \\ \hline \end{array} + \begin{array}{|c|} \hline \bullet \\ \hline \bullet \\ \hline \end{array} = \boxed{12}$$


$$\boxed{4} + \boxed{5} + \boxed{3} = \boxed{12}$$