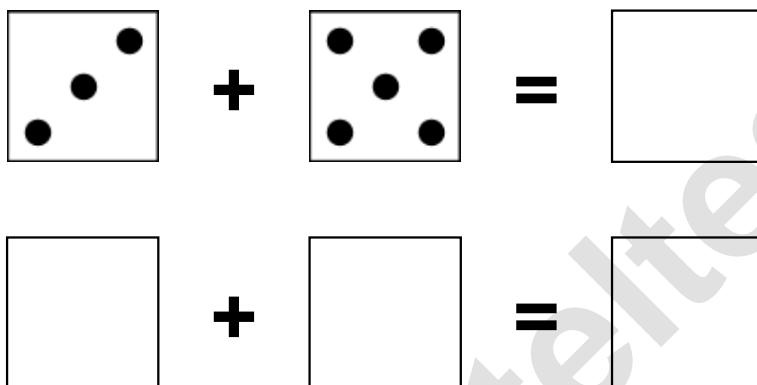


Aufgaben rechnen mit Bildern. Der Würfel.  
Ergebnisse im Zahlenbereich bis 12.

Name:	Klasse:	Datum:
-------	---------	--------

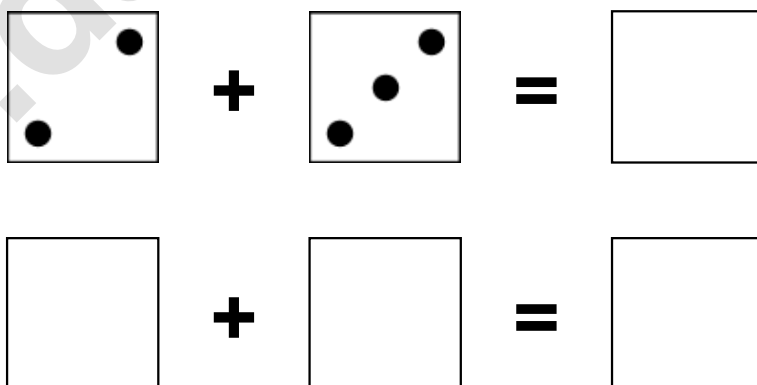
**Aufgabe 1.)**

**Zähle die Punkte auf den Würfeln und addiere.**



**Aufgabe 2.)**


**Zähle die Punkte auf den Würfeln und addiere.**



Aufgaben rechnen mit Bildern. Der Würfel.  
Ergebnisse im Zahlenbereich bis 12.


Lösungen

Aufgabe 1.)


$$\begin{array}{|c|} \hline \bullet \\ \hline \bullet \\ \hline \bullet \end{array} + \begin{array}{|c|} \hline \bullet \bullet \\ \hline \bullet \\ \hline \bullet \bullet \end{array} = \begin{array}{|c|} \hline 8 \\ \hline \end{array}$$


$$\begin{array}{|c|} \hline 3 \\ \hline \end{array} + \begin{array}{|c|} \hline 5 \\ \hline \end{array} = \begin{array}{|c|} \hline 8 \\ \hline \end{array}$$

Aufgabe 2.)


$$\begin{array}{|c|} \hline \bullet \\ \hline \bullet \end{array} + \begin{array}{|c|} \hline \bullet \bullet \\ \hline \bullet \end{array} = \begin{array}{|c|} \hline 5 \\ \hline \end{array}$$


$$\begin{array}{|c|} \hline 2 \\ \hline \end{array} + \begin{array}{|c|} \hline 3 \\ \hline \end{array} = \begin{array}{|c|} \hline 5 \\ \hline \end{array}$$