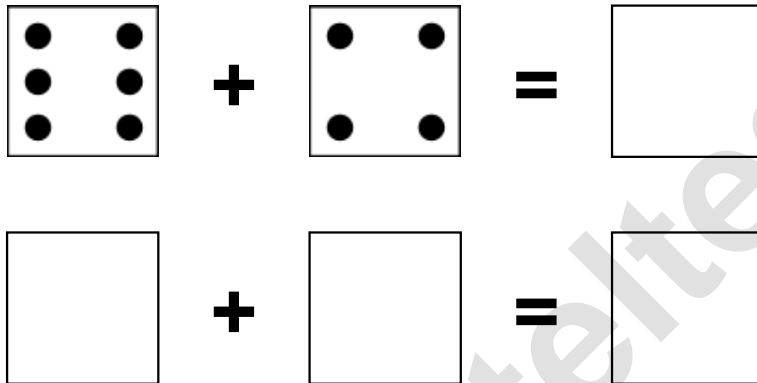


Aufgaben rechnen mit Bildern. Der Würfel.
Ergebnisse im Zahlenbereich bis 12.

Name:	Klasse:	Datum:
-------	---------	--------

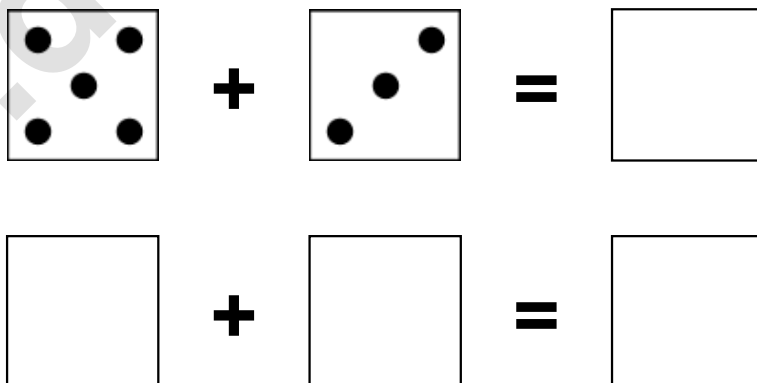
Aufgabe 1.)

Zähle die Punkte auf den Würfeln und addiere.



Aufgabe 2.)


Zähle die Punkte auf den Würfeln und addiere.



Aufgaben rechnen mit Bildern. Der Würfel.
Ergebnisse im Zahlenbereich bis 12.


Lösungen

Aufgabe 1.)


$$\begin{array}{|c|} \hline \bullet & \bullet \\ \hline \bullet & \bullet \\ \hline \bullet & \bullet \\ \hline \end{array} + \begin{array}{|c|} \hline \bullet & \bullet \\ \hline \bullet & \bullet \\ \hline \end{array} = \begin{array}{|c|} \hline 10 \\ \hline \end{array}$$


$$\begin{array}{|c|} \hline 6 \\ \hline \end{array} + \begin{array}{|c|} \hline 4 \\ \hline \end{array} = \begin{array}{|c|} \hline 10 \\ \hline \end{array}$$

Aufgabe 2.)


$$\begin{array}{|c|} \hline \bullet & \bullet \\ & \bullet \\ \hline \bullet & \bullet \\ \hline \end{array} + \begin{array}{|c|} \hline & \bullet \\ \bullet & \bullet \\ \hline \bullet & \\ \hline \end{array} = \begin{array}{|c|} \hline 8 \\ \hline \end{array}$$


$$\begin{array}{|c|} \hline 5 \\ \hline \end{array} + \begin{array}{|c|} \hline 3 \\ \hline \end{array} = \begin{array}{|c|} \hline 8 \\ \hline \end{array}$$