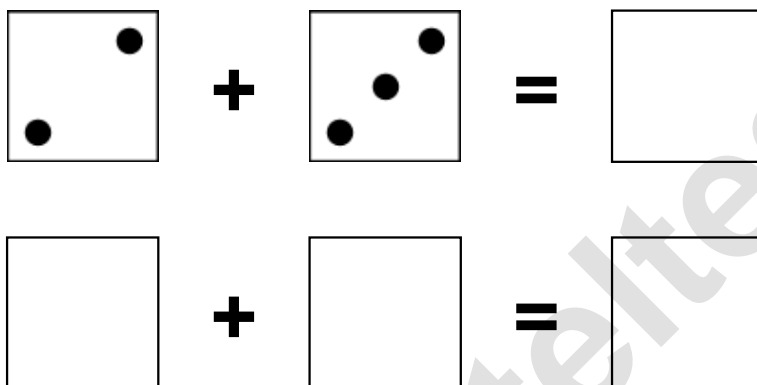


Aufgaben rechnen mit Bildern. Der Würfel.  
Ergebnisse im Zahlenbereich bis 12.

Name:	Klasse:	Datum:
-------	---------	--------

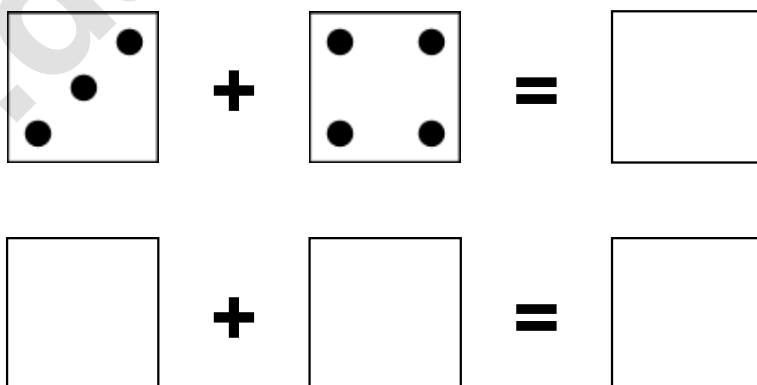
**Aufgabe 1.)**

**Zähle die Punkte auf den Würfeln und addiere.**



**Aufgabe 2.)**


**Zähle die Punkte auf den Würfeln und addiere.**



Aufgaben rechnen mit Bildern. Der Würfel.  
Ergebnisse im Zahlenbereich bis 12.

Lösungen

Aufgabe 1.)




A visual equation showing two dice. The first die shows 2 dots (bottom-left and top-right). The second die shows 3 dots (bottom-left, middle, and top-right). The equation is 2 + 3 = 5.



A numerical equation showing two dice. The first die shows 2 dots, the second die shows 3 dots, and the result is 5.

Aufgabe 2.)



A visual equation showing two dice. The first die shows 3 dots (bottom-left, middle, and top-right). The second die shows 4 dots (bottom-left, bottom-right, top-left, and top-right). The equation is 3 + 4 = 7.



A numerical equation showing two dice. The first die shows 3 dots, the second die shows 4 dots, and the result is 7.