

Aufgaben rechnen mit Bildern. Der Würfel.  
Ergebnisse im Zahlenbereich bis 12.

Name:	Klasse:	Datum:
-------	---------	--------

**Aufgabe 1.)**

Zähle die Punkte auf den Würfeln und addiere.

$$\begin{array}{ccc} \begin{array}{|c|} \hline \bullet \\ \bullet \\ \bullet \\ \hline \end{array} & + & \begin{array}{|c|} \hline \bullet \\ \hline \end{array} & = & \begin{array}{|c|} \hline \\ \hline \end{array} \\ \\ \begin{array}{|c|} \hline \\ \hline \end{array} & + & \begin{array}{|c|} \hline \\ \hline \end{array} & = & \begin{array}{|c|} \hline \\ \hline \end{array} \end{array}$$

**Aufgabe 2.)**




Zähle die Punkte auf den Würfeln und addiere.

$$\begin{array}{ccc} \begin{array}{|c|} \hline \bullet \\ \bullet \\ \hline \end{array} & + & \begin{array}{|c|} \hline \bullet \\ \hline \end{array} & = & \begin{array}{|c|} \hline \\ \hline \end{array} \\ \\ \begin{array}{|c|} \hline \\ \hline \end{array} & + & \begin{array}{|c|} \hline \\ \hline \end{array} & = & \begin{array}{|c|} \hline \\ \hline \end{array} \end{array}$$

Aufgaben rechnen mit Bildern. Der Würfel.  
Ergebnisse im Zahlenbereich bis 12.




Lösungen

Aufgabe 1.)

 $+$  $=$ 

 $+$  $=$ 

Aufgabe 2.)

 $+$  $=$ 

 $+$  $=$ 