

Aufgaben rechnen mit Bildern. Der Würfel.
Ergebnisse im Zahlenbereich bis 12.

Name:	Klasse:	Datum:
-------	---------	--------

Aufgabe 1.)

Zähle die Punkte auf den Würfeln und addiere.

$$\begin{array}{ccccc} \begin{array}{|c|} \hline \bullet & & \bullet \\ & \bullet & \\ \bullet & & \bullet \\ \hline \end{array} & + & \begin{array}{|c|} \hline & \bullet & \\ \hline \end{array} & = & \begin{array}{|c|} \hline & & \\ \hline \end{array} \\ \\ \begin{array}{|c|} \hline & & \\ \hline \end{array} & + & \begin{array}{|c|} \hline & & \\ \hline \end{array} & = & \begin{array}{|c|} \hline & & \\ \hline \end{array} \end{array}$$

Aufgabe 2.)




Zähle die Punkte auf den Würfeln und addiere.




$$\begin{array}{ccccc} \begin{array}{|c|} \hline & & \bullet \\ & \bullet & \\ \bullet & & \\ \hline \end{array} & + & \begin{array}{|c|} \hline & \bullet & \\ \hline \end{array} & = & \begin{array}{|c|} \hline & & \\ \hline \end{array} \\ \\ \begin{array}{|c|} \hline & & \\ \hline \end{array} & + & \begin{array}{|c|} \hline & & \\ \hline \end{array} & = & \begin{array}{|c|} \hline & & \\ \hline \end{array} \end{array}$$

Aufgaben rechnen mit Bildern. Der Würfel.
Ergebnisse im Zahlenbereich bis 12.

Lösungen

Aufgabe 1.)

 $+$  $=$ 

 $+$  $=$ 

Aufgabe 2.)

 $+$  $=$ 

 $+$  $=$ 