

Aufgaben rechnen mit Bildern. Der Würfel.
Ergebnisse im Zahlenbereich bis 12.

Name:	Klasse:	Datum:
-------	---------	--------

Aufgabe 1.)

Zähle die Punkte auf den Würfeln und addiere.

$$\begin{array}{|c|} \hline \bullet & \bullet \\ \hline \bullet & \\ \hline \bullet & \bullet \\ \hline \end{array} + \begin{array}{|c|} \hline \bullet & \bullet \\ \hline \bullet & \bullet \\ \hline \bullet & \bullet \\ \hline \end{array} = \square$$

$$\square + \square = \square$$

Aufgabe 2.)

Zähle die Punkte auf den Würfeln und addiere.


$$\begin{array}{|c|} \hline \bullet & \bullet \\ \hline \bullet & \bullet \\ \hline \bullet & \bullet \\ \hline \end{array} + \begin{array}{|c|} \hline \bullet & \bullet \\ \hline \bullet & \bullet \\ \hline \end{array} = \square$$

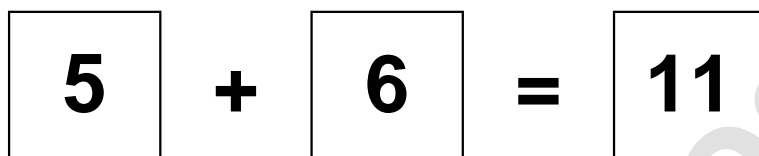
$$\square + \square = \square$$

Aufgaben rechnen mit Bildern. Der Würfel.
Ergebnisse im Zahlenbereich bis 12.


Lösungen

Aufgabe 1.)


$$\begin{array}{|c|} \hline \bullet & & \bullet \\ & \bullet & \\ \hline \bullet & & \bullet \\ \hline \end{array} + \begin{array}{|c|} \hline \bullet & \bullet \\ \bullet & \bullet \\ \bullet & \bullet \\ \hline \end{array} = \boxed{11}$$


$$\boxed{5} + \boxed{6} = \boxed{11}$$

Aufgabe 2.)


$$\begin{array}{|c|} \hline \bullet & \bullet \\ \bullet & \bullet \\ \bullet & \bullet \\ \hline \end{array} + \begin{array}{|c|} \hline \bullet & \bullet \\ & \\ \bullet & \bullet \\ \hline \end{array} = \boxed{10}$$


$$\boxed{6} + \boxed{4} = \boxed{10}$$