

Aufgaben rechnen mit Bildern. Der Würfel.  
Ergebnisse im Zahlenbereich bis 12.

Name:	Klasse:	Datum:
-------	---------	--------

**Aufgabe 1.)**

Zähle die Punkte auf den Würfeln und addiere.

$$\begin{array}{|c|} \hline \bullet & \bullet \\ \hline \bullet & \bullet \\ \hline \bullet & \bullet \\ \hline \end{array} + \begin{array}{|c|} \hline & \bullet \\ \hline & \\ \hline & \\ \hline \end{array} = \begin{array}{|c|} \hline & \\ \hline & \\ \hline & \\ \hline \end{array}$$

$$\begin{array}{|c|} \hline & \\ \hline & \\ \hline & \\ \hline \end{array} + \begin{array}{|c|} \hline & \\ \hline & \\ \hline & \\ \hline \end{array} = \begin{array}{|c|} \hline & \\ \hline & \\ \hline & \\ \hline \end{array}$$

**Aufgabe 2.)**

Zähle die Punkte auf den Würfeln und addiere.


$$\begin{array}{|c|} \hline & \bullet \\ \hline \bullet & \\ \hline & \\ \hline \end{array} + \begin{array}{|c|} \hline \bullet & \bullet \\ \hline \bullet & \bullet \\ \hline & \\ \hline \end{array} = \begin{array}{|c|} \hline & \\ \hline & \\ \hline & \\ \hline \end{array}$$


$$\begin{array}{|c|} \hline & \\ \hline & \\ \hline & \\ \hline \end{array} + \begin{array}{|c|} \hline & \\ \hline & \\ \hline & \\ \hline \end{array} = \begin{array}{|c|} \hline & \\ \hline & \\ \hline & \\ \hline \end{array}$$

Aufgaben rechnen mit Bildern. Der Würfel.  
Ergebnisse im Zahlenbereich bis 12.


Lösungen

Aufgabe 1.)


$$\begin{array}{|c|} \hline \bullet & \bullet \\ \hline \bullet & \bullet \\ \hline \bullet & \bullet \\ \hline \end{array} + \begin{array}{|c|} \hline \bullet \\ \hline \end{array} = \begin{array}{|c|} \hline 7 \\ \hline \end{array}$$


$$\begin{array}{|c|} \hline 6 \\ \hline \end{array} + \begin{array}{|c|} \hline 1 \\ \hline \end{array} = \begin{array}{|c|} \hline 7 \\ \hline \end{array}$$

Aufgabe 2.)


$$\begin{array}{|c|} \hline & \bullet \\ \hline \bullet & \\ \hline \end{array} + \begin{array}{|c|} \hline \bullet & \bullet \\ \hline \bullet & \bullet \\ \hline \end{array} = \begin{array}{|c|} \hline 6 \\ \hline \end{array}$$


$$\begin{array}{|c|} \hline 2 \\ \hline \end{array} + \begin{array}{|c|} \hline 4 \\ \hline \end{array} = \begin{array}{|c|} \hline 6 \\ \hline \end{array}$$