

**Übungsaufgaben Addition mit Bildern (Weihnachtsmänner). Aufgaben nur in den Zahlenbereich von 1 bis 9.**

**Zähle die Weihnachtsmänner zusammen und schreibe die richtige Zahl in das Kästchen!**

Name:

Klasse:

Datum:

Aufgabe 1.

 +  =



Aufgabe 2.

 +  =



Aufgabe 3.

 +  =

Aufgabe 4.

 +  =

Aufgabe 5.

 +  =

Lösungen:

Aufgabe 1:



7

Aufgabe 2:



6

Aufgabe 3:



4

Aufgabe 4:



9

Aufgabe 5:



8