

**Übungsaufgaben Addition mit Bildern (Weihnachtsmänner). Aufgaben nur in den Zahlenbereich von 1 bis 9.**



**Zähle die Weihnachtsmänner zusammen und schreibe die richtige Zahl in das Kästchen!**

Name:



Klasse:

Datum:



Aufgabe 1.

 +  =

Aufgabe 2.

 +  =

Aufgabe 3.

 +  =

Aufgabe 4.

 +  =

Aufgabe 5.

 +  =

Lösungen:

Aufgabe 1:



7

Aufgabe 2:



9

Aufgabe 3:



8

Aufgabe 4:



6

Aufgabe 5:



4