

Übungsaufgaben Addition mit Bildern (Schneemann). Aufgaben nur in den Zahlenbereich von 1 bis 9.


Zähle die Schneemänner zusammen und schreibe die richtige Zahl in das Kästchen!

Name:

Klasse:

Datum:

Aufgabe 1.



+



=

Aufgabe 2.



+




=

Aufgabe 3.



+




=

Aufgabe 4.




+




=

Aufgabe 5.



+



=


Lösungen:

Aufgabe 1:



8

Aufgabe 2:



9

Aufgabe 3:



6

Aufgabe 4:



8

Aufgabe 5:



7