

**Übungsaufgaben Addition mit Bildern (Schneemann). Aufgaben nur in den Zahlenbereich von 1 bis 9.**

**Zähle die Schneemänner zusammen und schreibe die richtige Zahl in das Kästchen!**

Name:


Klasse:

Datum:

Aufgabe 1.



+



=

Aufgabe 2.



+



=

Aufgabe 3.




+




=

Aufgabe 4.




+



=

Aufgabe 5.




+



=


Lösungen:

Aufgabe 1:




5

Aufgabe 2:



9

Aufgabe 3:



9

Aufgabe 4:



7

Aufgabe 5:



6